




Score obtenu : ..... / 28

<p><b>1) Opérations : Relie deux à deux les cartes qui font 10.</b></p>	<p>.../4</p>								
<p><b>2) Suites numériques : Trouve la règle et écris le nombre manquant.</b></p> <p>35 - 30 - 25 - 20 - <input type="text"/> - 10   41 - 44 - <input type="text"/> - 50 - 53</p>	<p>.../4</p>								
<p><b>3) Calculs enchaînés : Calcule et complète les bulles.</b></p> <p>(7) + 4 ( ) - 2 ( ) + 3 ( ) + 10 ( ) - 1 (21)</p>	<p>.../4</p>								
<p><b>4) Relations entre les nombres : Colorie d'une même couleur les cartes qui représentent le même nombre.</b></p> <table border="0"> <tr> <td><input type="text" value="18"/></td> <td><input type="text" value="17"/></td> <td><input type="text" value="40"/></td> <td><input type="text" value="13"/></td> </tr> <tr> <td><input type="text" value="20 + 20"/></td> <td><input type="text" value="8 + 8 + 2"/></td> <td><input type="text" value="5 + 5 + 7"/></td> <td><input type="text" value="6 + 6 + 1"/></td> </tr> </table>	<input type="text" value="18"/>	<input type="text" value="17"/>	<input type="text" value="40"/>	<input type="text" value="13"/>	<input type="text" value="20 + 20"/>	<input type="text" value="8 + 8 + 2"/>	<input type="text" value="5 + 5 + 7"/>	<input type="text" value="6 + 6 + 1"/>	<p>.../4</p>
<input type="text" value="18"/>	<input type="text" value="17"/>	<input type="text" value="40"/>	<input type="text" value="13"/>						
<input type="text" value="20 + 20"/>	<input type="text" value="8 + 8 + 2"/>	<input type="text" value="5 + 5 + 7"/>	<input type="text" value="6 + 6 + 1"/>						
<p><b>5) Le compte est bon : Effectue des calculs avec les nombres donnés pour trouver le nombre cible. Écris tes calculs dans les cases.</b></p> <p><i>Attention : tu n'es pas obligé(e) d'utiliser tous les nombres et tu ne dois pas utiliser deux fois le même nombre.</i></p> <p>10 - 1 - 6 - 8 - 3 → (15)</p> <div style="border: 1px solid black; height: 60px; width: 450px;"></div>	<p>.../4</p>								
<p><b>6) Problème : Observe l'image pour répondre.</b></p> <p>Paul utilise la moitié des œufs pour cuisiner. Combien en reste-t-il dans la boîte?</p> <div style="border: 1px solid black; height: 80px; width: 480px;"></div> 	<p>.../4</p>								
<p><b>7) Léo a fait 15 avec 3 dés. Retrouve la face du 3<sup>ème</sup> dé.</b></p> <p> <input type="text" value=""/> </p>	<p>.../4</p>								