

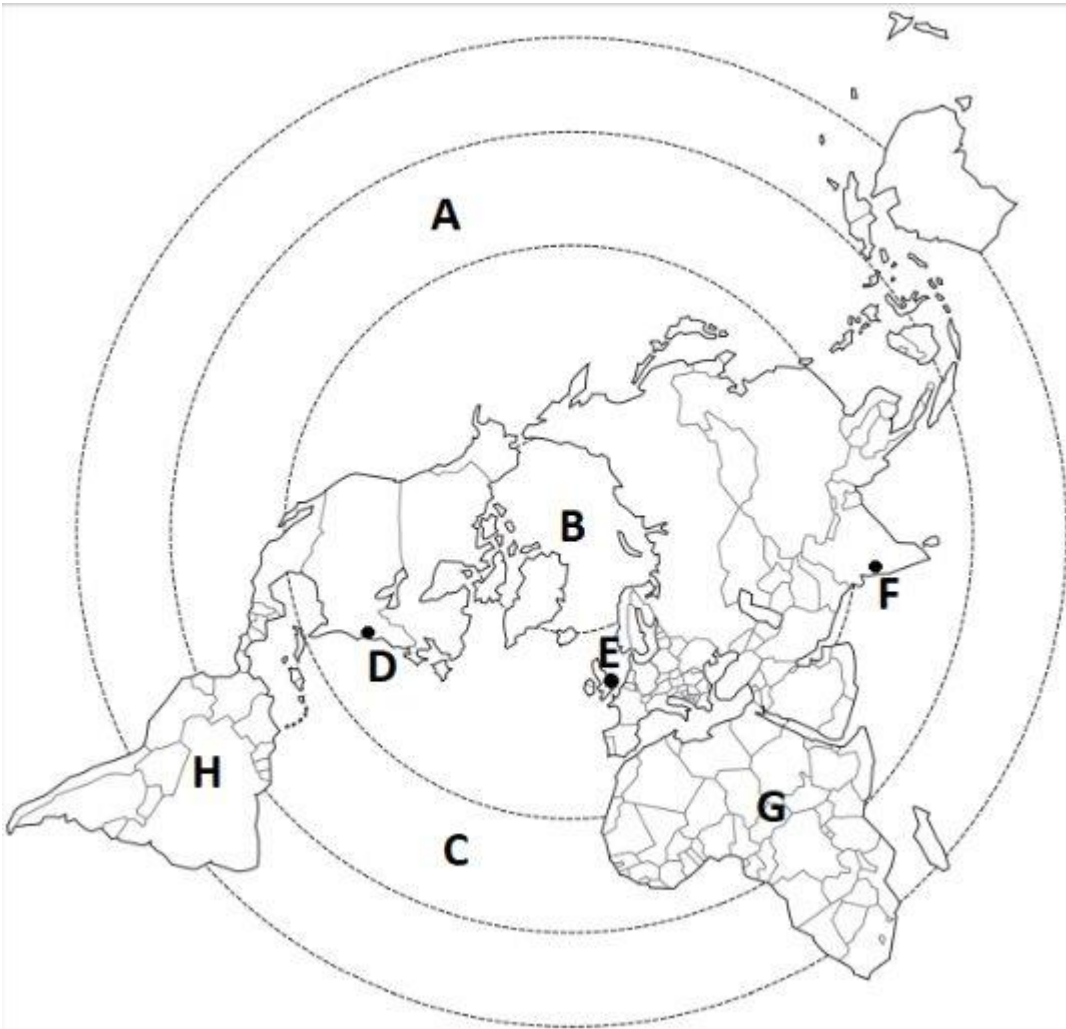
NOM :

PRÉNOM :CLASSE :

SE REPÉRER DANS L'ESPACE 4^e

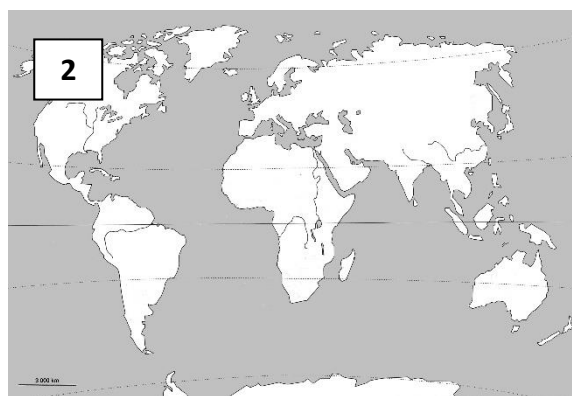
Exercice 1 : je nomme et localise les grands repères géographiques

Associe les bonnes réponses entre elles.



A	Afrique
B	Amérique du Sud
C	Londres
D	Océan glacial Arctique
E	New York
F	Océan Pacifique
G	Océan Atlantique
H	Mumbai

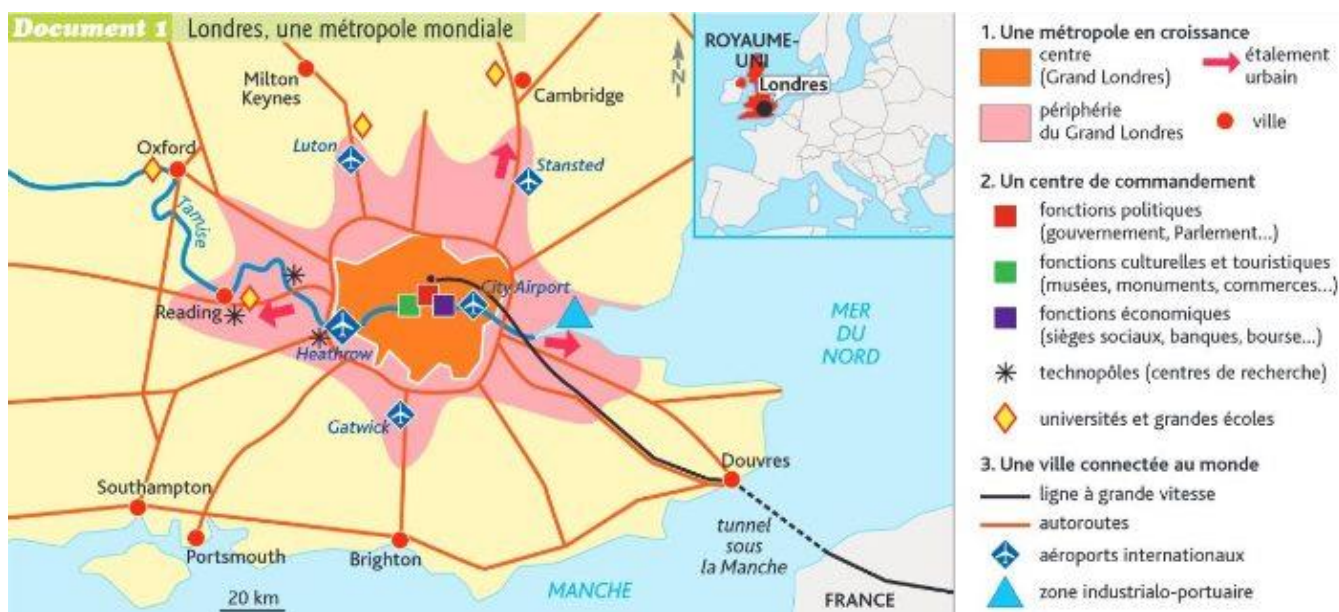
Exercice 2 : je classe les documents selon leur échelle



1	Échelle mondiale
2	Échelle régionale
3	Échelle locale

Exercice 3 : je me repère à l'échelle locale

Réponds aux questions suivantes sans faire de phrase.



crédit image : Fiches d'activités Hatier 2017, HGEMC 4e

1- De quel pays Londres est-elle la capitale ?

2- Combien y a-t-il de kilomètres entre l'aéroport d'Heathrow et la zone industrialo-portuaire ?

- Environ 70km Environ 35km Environ 100km

3- Dans quelle mer se jette la Tamise ?